

L'area dei parallelogrammi

NoiNonni®

10 anni - geometria

- Collega ogni figura geometrica alla formula necessaria a calcolare l'area.

QUADRATO

RETTANGOLO

ROMBO



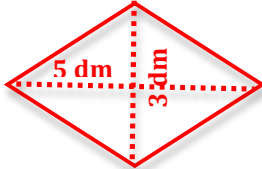

PARALLELOGRAMMA

Diagonale maggiore x diagonale minore : 2

Lato x lato

Base x altezza

- Calcola l'area di ognuna delle seguenti figure.

<p>RETTANGOLO</p>  <p>14 mm</p> <p>8 mm</p>	<p>QUADRATO</p>  <p>8 cm</p>	<p>ROMBO</p>  <p>5 dm</p> <p>3 dm</p>	<p>PARALLELOGRAMMA</p>  <p>3 m</p> <p>7 m</p>
--	---	---	--

- Osserva e calcola la misura della superficie totale di questa figura geometrica.

